

ZNAKI SYGNAŁY POLECENIA - pytania testowe



1. Gdy policjant kieruje ruchem na skrzyżowaniu i stoi tyłem do naszego kierunku, to jego postawa oznacza dla nas:
 - a) zielone światło,
 - b) czerwone światło,
 - c) żółte światło.
2. Jeżeli na skrzyżowaniu z włączoną sygnalizacją świetlną dodatkowo ruchem kieruje policjant, to należy w pierwszej kolejności stosować się do:
 - a) sygnalizacji świetlnej,
 - b) poleceń kierującego ruchem,
 - c) sygnalizacji świetlnej i policjanta.
3. Kierujący rowerem w pierwszej kolejności stosuje się do:
 - a) znaków drogowych pionowych i poziomych,
 - b) sygnalizacji świetlnej,
 - c) poleceń osoby kierującej ruchem.
4. Jeżeli na sygnalizatorze świetlnym miga żółte światło, to znaczy, że:
 - a) za chwilę pojawi się światło czerwone,
 - b) za chwilę pojawi się światło zielone,
 - c) sygnalizacja nie działa i stosujemy się do znaków pionowych i poziomych.
5. Gdy kierujący zobaczy migające światła czerwone przed przejazdem kolejowym, to powinien:
 - a) zatrzymać pojazd,
 - b) może jechać bez żadnych ograniczeń,
 - c) może jechać z zachowaniem szczególnej ostrożności.
6. Gdy policjant stoi bokiem do nadjeżdżających pojazdów, to:
 - a) mogą one wjechać na skrzyżowanie – mają wolny przejazd,
 - b) nie mogą one wjechać na skrzyżowanie,
 - c) mogą one wjechać na skrzyżowanie, ale tylko skręcić w prawo.
7. Gdy policjant na skrzyżowaniu stoi przodem lub tyłem do nadjeżdżających pojazdów, to:
 - a) mogą one wjechać na skrzyżowanie – mają otwarty ruch,
 - b) mogą one wjechać na to skrzyżowanie, jeśli wjazdu nie utrudnia obecność innych samochodów,
 - c) nie mogą one wjechać na skrzyżowanie.

8. Gdy kierujący rowerem zobaczy przedstawiony znak, powinien się zatrzymać:



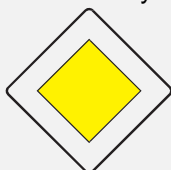
- a) za znakiem,
- b) tylko, jeśli nadjeżdżają inne pojazdy,
- c) zawsze, niezależnie od natężenia ruchu.

9. W miejscu oznaczonym tym znakiem:



- a) pieszy powinien się poruszać po chodniku,
- b) kierujący rowerem może się poruszać z prędkością do 30 km/h,
- c) pieszy ma pierwszeństwo przed rowerzystą.

10. Przedstawiony znak zaliczamy do grupy znaków:



- a) ostrzegawczych,
- b) zakazu,
- c) informacyjnych.

11. Gdy kierujący pojazdem zbliża się do skrzyżowania oznaczonego przedstawionym znakiem, to powinien:

ZNAKI SYGNAŁY POLECENIA - pytania testowe



- a) przejechać pierwszy,
- b) ustąpić pierwszeństwa nadjeżdżającym z prawej strony,
- c) ustąpić pierwszeństwa nadjeżdżającym z lewej strony.

12. Przedstawiony znak oznacza:



- a) nakaz skrętu w prawo,
- b) zakaz skrętu w prawo,
- c) nakaz jazdy z prawej strony znaku.

13. Przedstawiony znak ostrzega o:



- a) dwóch zakrętach, z których pierwszy jest w lewo, a drugi w prawo,
- b) niebezpiecznych zakrętach, z których pierwszy jest w lewo,
- c) krętej drodze.

14. Gdy kierujący pojazdem zobaczy przedstawiony znak, to nie może:



- a) skręcić w lewo na skrzyżowaniu,
- b) przejechać na wprost przez skrzyżowanie,
- c) zatrzymać się za znakiem.

15. Przedstawiony znak zaliczamy do grupy znaków:



- a) zakazu,
- b) informacyjnych,
- c) ostrzegawczych.

16. Przedstawiony znak oznacza przejazd:



- a) kolejowy bez zapór,
- b) tramwajowy,
- c) kolejowy z zaporami.

17. Przedstawiony znak ostrzega przed:



- a) nieokreśloną liczbą niebezpiecznych zakrętów – bez podania kierunków zakrętów,
- b) dwoma niebezpiecznymi zakrętami, z których pierwszy jest w prawo, a kierunku drugiego zakrętu znak nie określa.
- c) dwoma niebezpiecznymi zakrętami, z których pierwszy jest w prawo, a drugi w lewo,

18. Czy kierujący rowerem może jechać drogą oznaczoną tym znakiem?



- a) może, jeżeli posiada kartę rowerową,
- b) nie może,
- c) może, jeżeli posiada prawo jazdy.

19. Przedstawiony znak oznacza, że kierujący pojazdem:



- a) nie musi ustępować pierwszeństwa pieszym znajdującym się na drodze,
- b) nie może przekroczyć prędkości 20 km/h,
- c) wyjeżdża ze strefy zamieszkania.

20. Przedstawiony znak oznacza, że:

ZNAKI SYGNAŁY POLECENIA - pytania testowe



- a) zawracanie na najbliższym skrzyżowaniu jest zabronione,
- b) zawracanie na najbliższym skrzyżowaniu jest dozwolone,
- c) skręcanie w lewo jest dozwolone po spełnieniu określonych warunków.

21. Przedstawiony znak:



- a) zezwala na wjazd od strony ustawienia znaku,
- b) zakazuje wjazdu od strony ustawienia znaku,
- c) tylko rowerzystom zezwala na wjazd od strony ustawienia znaku.

22. Przedstawiony znak ostrzega przed:



- a) przejazdem kolejowym z zaporami,
- b) tramwajem,
- c) przejazdem kolejowym bez zapór.

23. Przedstawiony znak oznacza zakaz:



- a) zatrzymywania się,
- b) postoju w dni parzyste,
- c) postoju.

24. Przedstawiony znak oznacza przystanek:



- a) tramwajowy,
- b) trolejbusowy,
- c) autobusowy.

25. Przedstawiony znak ostrzegawczy oznacza:



- a) skrzyżowanie z drogą gruntową z lewej strony,
- b) skrzyżowanie z drogą jednokierunkową podporządkowaną z lewej strony.
- c) drogę biegnącą ukośnie z lewej strony.

26. Przedstawiony znak informuje o wjeździe na drogę:




- a) o jednym pasie ruchu,
- b) o jednym kierunku ruchu,
- c) wyprzedzania.

27. Przedstawiony znak oznacza:



- a) zakaz ruchu rowerów,
- b) wjazd na parking dla rowerów,
- c) miejsce przeznaczone dla przejazdu rowerzystów przez drogę.

28. Przedstawiony znak zaliczamy do grupy znaków:



- a) ostrzegawczych,
- b) nakazu,
- c) zakazu.

29. Przedstawiony znak oznacza:

ZNAKI SYGNAŁY POLECENIA - pytania testowe



- a) zakaz skrętu w prawo,
- b) nakaz skrętu w prawo przed znakiem,
- c) nakaz skrętu w prawo za znakiem.

30. Przedstawiony znak oznacza:



- a) wlot drogi jednokierunkowej z lewej strony,
- b) pierwszeństwo przejazdu,
- c) ustąpienie na skrzyżowaniu pierwszeństwa pojazdom z lewej strony.

31. Przedstawiony znak oznacza:



- a) pierwszeństwo dla wjeżdżających od strony znaku,
- b) pierwszeństwo dla nadjeżdżających z przeciwka,
- c) początek drogi jednokierunkowej.

32. O tym, że kierujący pojazdem zbliża się do drogi z pierwszeństwem przejazdu, informuje znak:

a)



b)



c)



33. Dalszego poruszania się pieszych zabrania znak:

a)



b)



c)



34. Koniec drogi jednokierunkowej oznacza znak:

a)



b)



c)



35. Zakaz skrętu w prawo może być wyrażony znakiem:


a)



b)



c)



36. O skrzyżowaniu dróg równorzędnych ostrzega znak:

a)



b)



c)



37. Rowerzystów nie dotyczy znak:

a)

b)

c)

ZNAKI SYGNAŁY POLECENIA - pytania testowe



38. Włączenie się do ruchu następuje przy wyjeździe oznakowanym znakiem:

a)



b)



c)



39. Wjazdu rowerzystom zabrania znak:

a)



b)

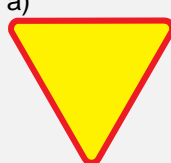


c)



40. Rowerzystów nie dotyczy znak:

a)



b)




c)



41. Pierwszeństwo przejazdu przedstawia znak:

a)



b)



c)



42. Rowerzystów nie dotyczy znak:

a)



b)



c)



43. Ustąpienie pierwszeństwa nakazuje znak:

a)



b)



c)



44. Jazdę na wprost nakazuje znak:

a)

b)

c)

ZNAKI SYGNAŁY POLECENIA - pytania testowe



45. Zakaz skrętu w prawo może być wyrażony znakiem:

a)



b)



c)



46. Zakaz ruchu pieszych przedstawia znak:

a)



b)



c)



47. Drogę jednokierunkową przedstawia znak:

a)



b)



c)



1b,2b,3c,4c,5a,6a,7c,8c,9c,10c,11b,12c,13b,14a,15b,16b,17b,18b,19b,20a,21b,22c,23c,24b,25b,26b,27c,28b,29c,30a,31b,32b,33c,34a,35b,36a,37b,38b,39b,40c,41a,42c,43a,44c,45a,46b,47b.